
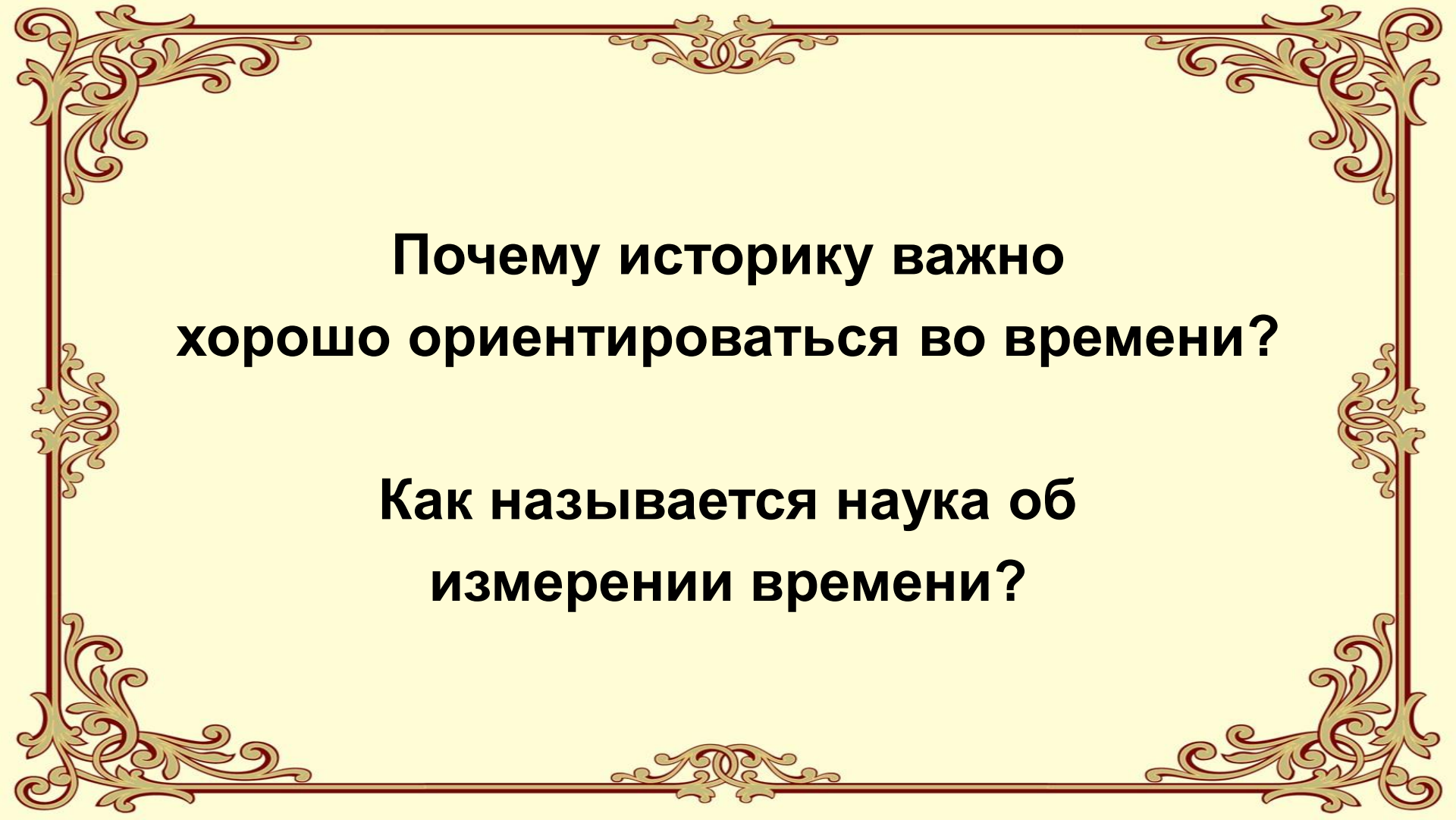


Что должен уметь делать историк?




СЧЕТ ЛЕТ В ИСТОРИИ



**Почему историку важно
хорошо ориентироваться во времени?**

**Как называется наука об
измерении времени?**



**Хронология-это наука об измерении
времени.**

1. Сколько дней в году?

2. Век - это сколько лет?

3. Тысячелетие - это сколько веков?

4. В каком веке мы живем?

5. Какой год был последним в XX в.?

10 лет – десятилетие

100 лет – 1 столетие – 1 век

1000 лет – тысячелетие



Стр.

1. В чем суть египетской системы летоисчисления?

2. В чем суть римской системы летоисчисления?

3. Какая, по вашему мнению, удобнее? Почему?

Расположите единицы измерения времени в порядке
возрастания.



час



год



эра



день



секунда



век

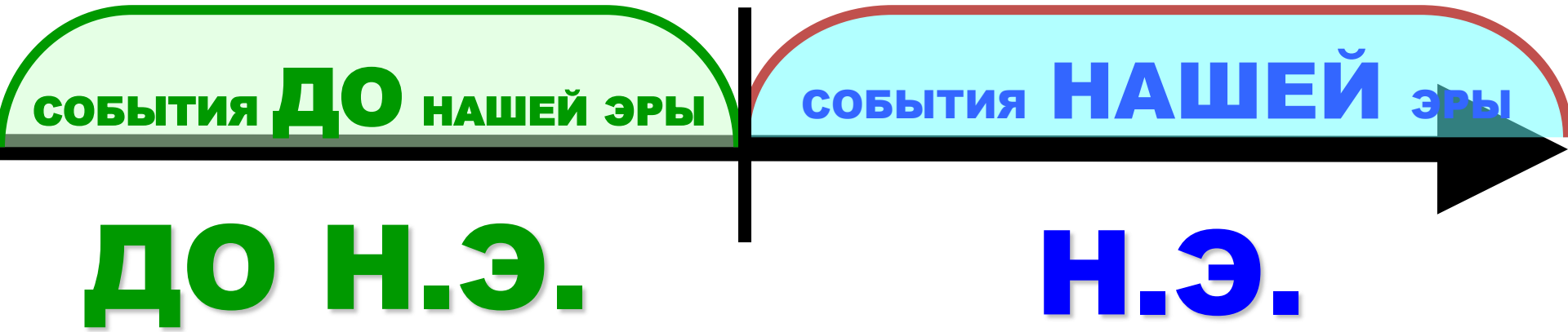


месяц

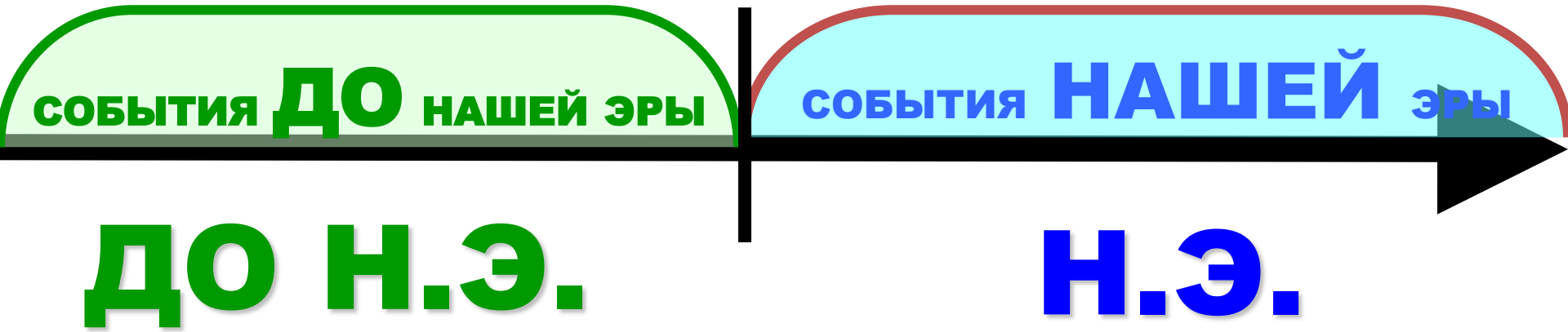


тысячелетие

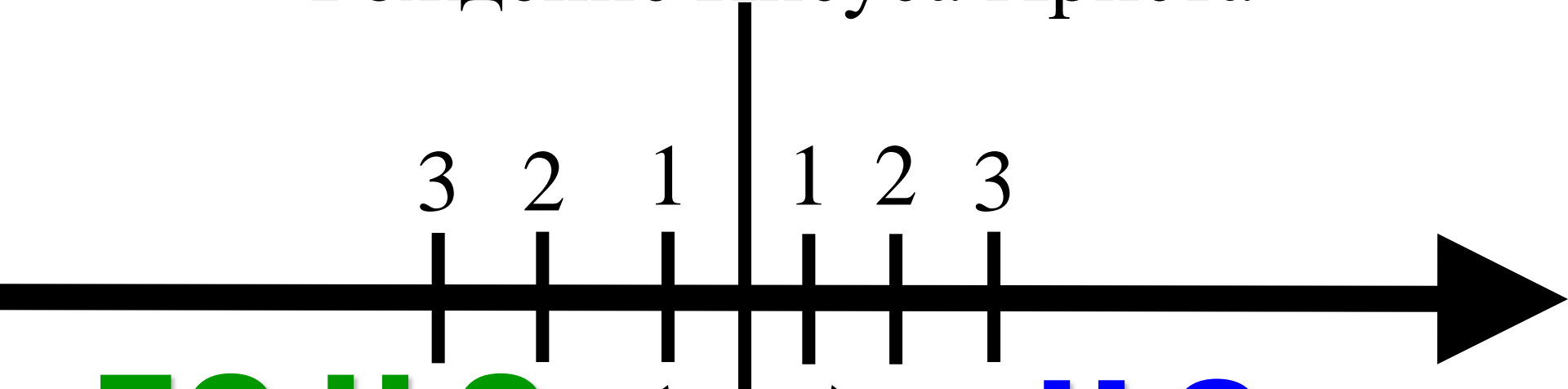
Лента времени.



Какое событие является началом
нашей эры?



Рождение Иисуса Христа



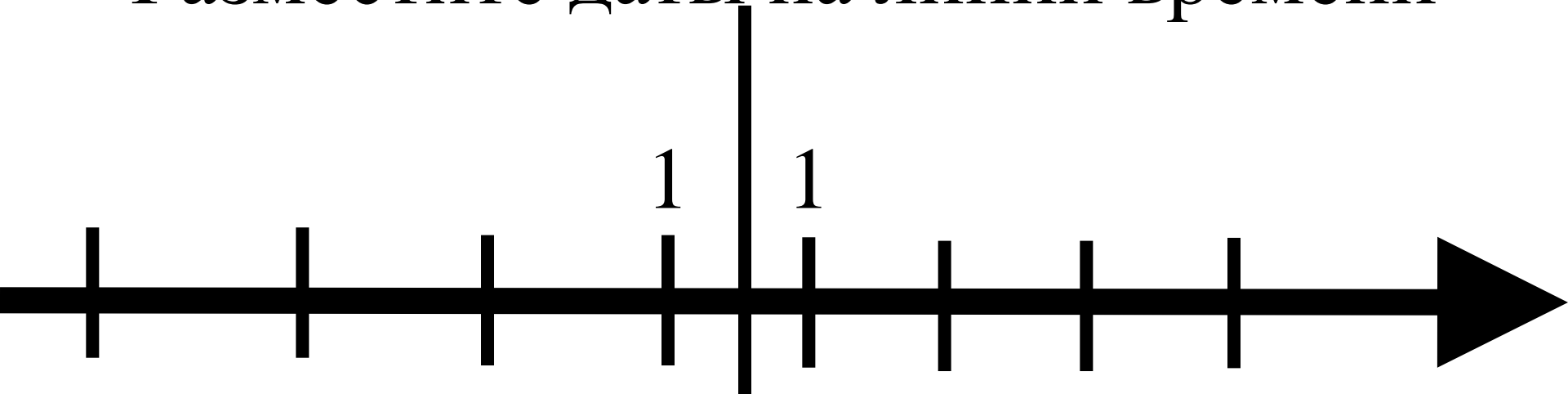
ДО Н.Э.

Н.Э.

Какой это год?

Какой это год?

Разместите даты на линии времени



1

1

753 г. до н.э.

71 г. до н.э.

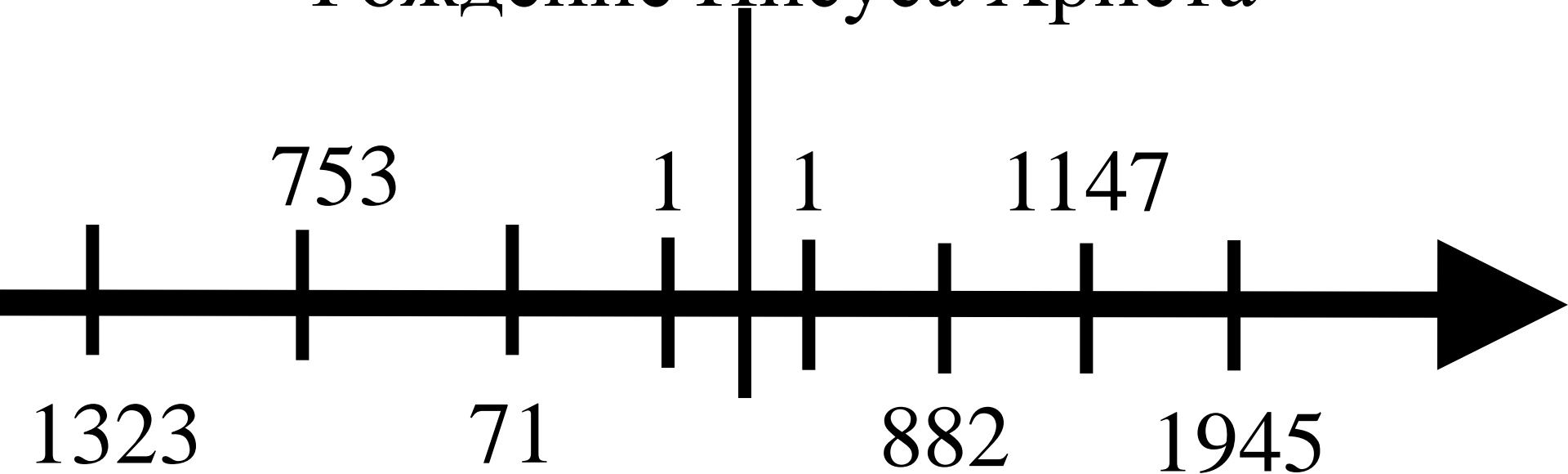
1147 г. н.э.

882 г. н.э.

1945 г. н.э.

1323 г. до н.э.

Рождение Иисуса Христа



ДО Н.Э.

Н.Э.

Решаем задачи


1. Сколько лет прошло от образования Киевской Руси(882 г. н.э.) до основания Москвы(1147г. н.э.)?
2. Сколько лет прошло от появления Рима(753г. до н.э.) до гибели Спартака(71 г. до н.э.)?

Решаем задачки.

3. Сколько лет прошло от появления Рима(753г. до н.э.) до основания Москвы(1147г. н.э.)?

4. Сколько лет назад был основан город Рим(753 г. до н.э.)?

Как определить век?

12  год

+

1

=

13 век

1200 год

=

12 век

Как определить век?

125 год = ?

1999 год = ?

1901 год = ?

1240 год = ?

1185 год = ?

374 год = ?

74 год = ?

5 год = ?

2100 год = ?

**Для обозначения веков на ленте времени
принято использовать римские цифры.**

Для записи 4 перед V ставят I (отнимают) = IV

I-1

Для записи 9 перед X ставят I (отнимают) = IX

V-5

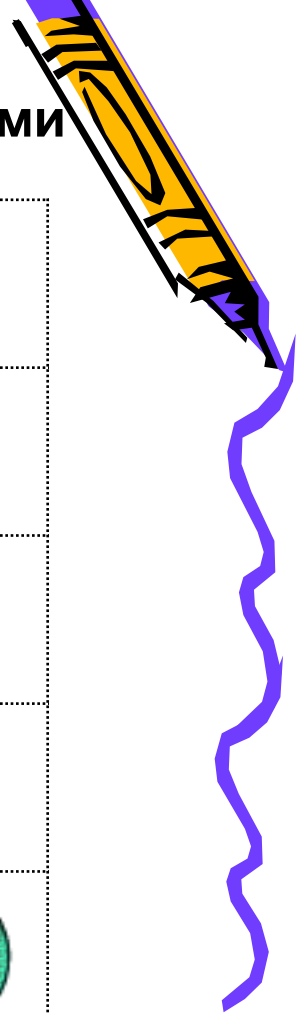
Для записи 6 после V ставят I = VI

X-10

Для записи 11 после X ставят I = XI

Века и тысячелетия пишутся латинскими цифрами

I	1	VI	6
II	2	VII	7
III	3	VIII	8
IV	4	IX	9
V	5	X	10



Запишите римскими цифрами:

Римские (Латинские)	Арабские
III	
XIV	
VI	
XVII	
XIX	